




Dünyanın en ilginç ağaç türlerinden biri ateş ağacı adı verilen ağaç türüdür. Bu ağaç türlerinin parlak renkleri diğer ağaç türlerinden hemen ayırt edilmesini sağlar. Sıcak ve bol yağış alan yerlerde bulunur. Dünyadaki ateş ağacı sayısı çok azdır ve değişen iklim şartları ateş ağacının giderek azalmasına yol açmaktadır. Ateş ağacını, diğer ağaç türlerinden ayıran bir özellik de hızlı bir şekilde büyüebilmesidir. Bu ağaç türleri nin boyları 13 metreye kadar uzayabilmektedir. Bu uzunluğa ulaştığı süre diğer ağaç türlerinden daha kısa olabilmektedir.


(1 ve 2. soruyu yukarıdaki metne göre cevaplayalım.)

- Yukarıdaki metne göre aşağıdakilerden hangisi yanlıştır?
 - Ateş ağaçları, hızlı bir şekilde büyüebilmektedir.
 - Ateş ağaçları parlak renklere sahiptir.
 - Ateş ağaçları, sıcak ve yağış alan yerlerde yetişir.
 - Değişen iklim şartları ateş ağacı türlerinin artmasını sağlamaktadır.
- Yukarıdaki metinde aşağıdaki sorulardan hangisinin cevabı yoktur?
 - Ateş ağaçlarının yetişmesi için gerekli koşullar nelerdir?
 - Ateş ağaçları neden azalmaktadır?
 - Ateş ağaçları diğer ağaçlardan nasıl ayırt edilir?
 - Ateş ağaçları hangi ülkelerde görülür?

3.  Ay, dün gece çocuklara gülümsüyordu.

 Bulutlar siyah bir hal almıştı.

 Ağaç gölgesinde oturanlarla sohbet etmeye başladı.

 Güneşli bir havada kedim Tekir çok eğleniyordu.

Yukarıdaki cümlelerden kaç tanesi hayali öge içermektedir?

- 1
- 2
- 3
- 4

- Aşağıdaki cümlelerden hangisinde altı çizili söz öbeği deyim değildir?
 - Bu ödevi yetiştirmek için akla kararı seçti.
 - Sonunda baklayı ağzından çıkardığını gördük.
 - Ahmet, tek başına bu durumla baş edemedi.
 - Gittiği yerde, Ahmet'i görünce çok şaşırıldı.
- Aşağıdaki cümlelerden hangisinde kısaltmaların yazımı ile ilgili hata yapılmıştır?
 - Bu tahtanın boyu yaklaşık olarak 88 c.m. geliyor.
 - TBMM'de bu ay 3 oturum gerçekleşti.
 - Reçeteyi Dr. Hasan Bey yazdı.
 - Bir çok sözcüğün anlamına TDK'nın internet sitesinden bakıyormuş.

12.

66×5

77×25

36×50

90×5

İklim, yukarıdaki işlemleri kısa yoldan yapmış sonuçlarını doğru olarak bulmuştur. Aşağıdakilerden hangisi İklim'in bulduğu sonuçlardan biri olamaz?

- A. 1925 B. 1800
C. 450 D. 370

13. Aşağıdaki ifadelerden hangisi yanlıştır?

- A. Kuvvet bazı cisimlerde şekil değişikliğine sebep olabilir.
B. Esnek cisimlere uygulanan kuvvet durunca cisim eski haline döner.
C. Bazı varlıklar dışarıdan bir etki olmadan hareket edebilir.
D. Hareket eden bir cisme hareket yönünde uygulanan kuvvet cismin hızını azaltır.

14.

- I - Kapıyı kapatan kişi kapıya itme kuvveti uygulamaktadır.
II - Bir araç dönel kavşaktan dönerken yön değiştirme hareketi yapar.
III - Yukarı atılan top yukarı çıkarken yavaşlama, inerken hızlanma hareketi yapar.

Yukarıda verilen bilgilerden hangisi veya hangileri doğrudur?

- A. Yalnız I B. I ve II
C. II ve III D. I, II ve III

15. Aşağıdaki görsellerden hangisinde uygulanan kuvvet diğerlerinden farklıdır?



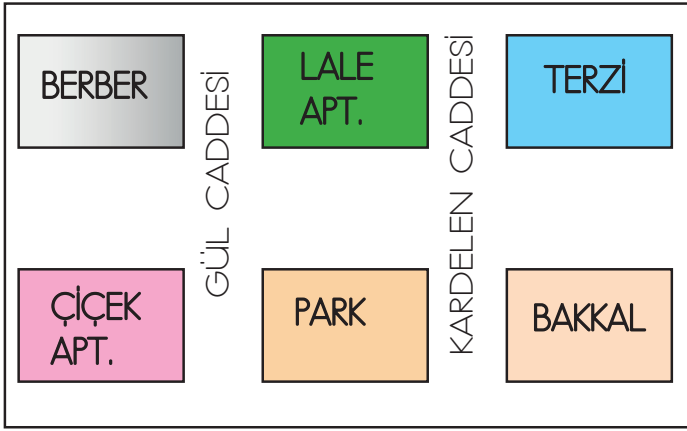
16. Aşağıdaki cisimler kuvvet uygulandıktan sonra hareket etmiştir. Hangi cisime uygulanan kuvvetin şiddeti daha fazladır?



17. Aşağıdakilerden hangisi kuvvetin etkilerinden bir tanesi değildir?

- A. yavaşlatma B. hızlandırma
C. şekil değiştirme D. yapı değiştirme

18. Aşağıdaki ifadelerden hangisi yanlıştır?
- A. Bir yerin kuş bakışı görüntüsünün kabataslak çizilmesine kroki denir.
- B. Küçük alanların krokisi çizilirken daha fazla ayrıntıya yer verilebilir.
- C. Kroki çizerken ölçek kullanılır.
- D. Kroki çiziminde kare, üçgen, daire gibi geometrik şekiller kullanılabilir.



19 ve 20. soruyu yukarıdaki krokiye göre cevaplayalım.

19. Lale Apartmanı'nın doğusunda aşağıdakilerden hangisi bulunmaktadır?
- A. Park
- B. Berber
- C. Terzi
- D. Bakkal
20. Özlem, Çiçek Apartmanı'nda oturmaktadır. Aşağıdakilerden hangisinin Özlem'in oturduğu yere göre konumu yanlış verilmiştir?
- A. Park → Doğu
- B. Berber → Kuzey
- C. Terzi → Kuzey doğu
- D. Bakkal → Güney batı

ADI :

SOYADI :

SINIFI :

PUANI :

| | | | | |
|----|---|---|---|---|
| 1 | A | B | C | D |
| 2 | A | B | C | D |
| 3 | A | B | C | D |
| 4 | A | B | C | D |
| 5 | A | B | C | D |
| 6 | A | B | C | D |
| 7 | A | B | C | D |
| 8 | A | B | C | D |
| 9 | A | B | C | D |
| 10 | A | B | C | D |
| 11 | A | B | C | D |
| 12 | A | B | C | D |
| 13 | A | B | C | D |
| 14 | A | B | C | D |
| 15 | A | B | C | D |
| 16 | A | B | C | D |
| 17 | A | B | C | D |
| 18 | A | B | C | D |
| 19 | A | B | C | D |
| 20 | A | B | C | D |