





Aslanlar, dünyanın birçok bölgesinde yaşamını sürdürmekte ve ormanların kralı olarak bilinmektedir. Aslan türünden bir tanesi vardır ki bu türe rastlamak oldukça zordur. Bu türler beyaz aslandır. Beyaz aslanlara, diğer aslan türlerine göre çok nadir rastlanır. Dünyada nesli tükenme tehlikesi yaşayan türlerden bir tanesidir. Çok az sayıda beyaz aslanın varlığını sürdürdüğü söylenmektedir. Bu aslan türlerinin nesillerini korumak için belli sayıda beyaz aslan çeşitli doğal parklarda koruma altına alınmışlardır. Beyaz aslan türleri genel olarak soğuk bölgelerde yaşamayı severler. Yaşamayı seçtikleri alanlarda yiyecek kaynağının bol olduğu görülmektedir. Bu aslan türleri diğer türlerde olduğu gibi etçildir.

(1 ve 2. soruyu yukarıdaki metne göre cevaplayalım.)





- Yukarıdaki metne göre aşağıdakilerden hangisi yanlıştır?
 - Beyaz aslanların nesli tükenme tehlikesiyle karşı karşıyadır.
 - Beyaz aslanlar genel olarak sıcak bölgelerde yaşamayı seçerler.
 - Beyaz aslanların bazıları çeşitli koruma parklarında korunmaktadır.
 - Beyaz aslanlar yiyecek kaynağının bol olduğu bölgelerde yaşamayı tercih ederler.
- Yukarıdaki metnin türü aşağıdakilerden hangisidir?
 - Fabl
 - Masal
 - Bilgilendirici metin
 - Hikaye edici metin

senefoca.net

-  Yemekte ki hareketleri üzücüydü.
-  Sende bizimle gelmeyecek miydin?
-  Sabahтан, Van'a doğru yola çıkacağız.
-  Geldiklerinde evde hiç oturmadılar.

Kemal yukarıdaki cümlelerden yazım hatası bulunanları seçecek ve cümleyi düzeltecektir. Buna göre Kemal'in kaç cümleyi düzeltmesi gerekmektedir?

- 1
- 2
- 3
- 4

- Aşağıdaki cümlelerden hangisinde pekiştirme kelimesi kullanılmamıştır?
 - Kardeşim çantamı karıştırarak karmakarışık bir hale getirmiş.
 - Bembayaz bulutlar birden gökyüzünü kapladı.
 - Gittiğimiz evde güzel mi güzel bir kedi gördük.
 - Gökyüzünde birçok bulut sanki bize bakıp gülümsüyordu.
-  Akan su tutmaz.
  Ak akçe gün içindir.
  Birlikten doğar.
  çuval ayakta durmaz.

Yukarıdaki atasözlerinden herhangi bir tanesi aşağıdaki kelimelerden hangisi ile tamamlanamaz?

- kara
- güç
- boş
- yosun

6. Aşağıdaki cümlelerin hangisinde virgül kaldırılırsa cümlenin anlamı değişmez?

- A. Yaşlı, adama bir kasa meyve verdi.
- B. Doktor, Hasan'ı odasına çağırırdı.
- C. Güneş, sınıftan koşarak çıkıverdi.
- D. Kenan, amcasını yemeğe çağırırdı.

7.

$$1785 + A + B = 8596$$

Yukarıdaki işleme göre $A+B$ işleminin sonucunun 1500 eksiği kaçtır?

- A. 3900
- B. 5311
- C. 5350
- D. 5400

8. Bir çıkarma işleminde eksilen 4 basamaklı rakamları farklı en büyük sayıya eşittir. Fark 3896'dır. Buna göre bu çıkarma işleminin tahmini sonucu kaçtır? (Tahmini sonuç en yakın onluğa yuvarlanarak bulunacaktır.)

- A. 6100
- B. 6050
- C. 5980
- D. 5960

9.

$$5785 - A = 3245$$

$$B + 2815 = 4785$$

Yukarıdaki işlemlerde verilmeyen A ve B sayılarının farkı kaçtır?

- A. 500
- B. 560
- C. 570
- D. 620

sonerhoca.net

10.

$$\begin{array}{r} 4758 \\ 3563 \\ \hline \end{array}$$

$$\begin{array}{r} 9863 \\ \dots\dots\dots \\ \hline \end{array}$$

Yukarıdaki çıkarma işlemlerinde çıkan sayıların toplamı 6228 sayısına eşittir. Buna göre çıkarma işlemlerinin farklarının toplamı kaçtır?

- A. 6500
- B. 7450
- C. 8393
- D. 9128

11.

→ Bir kargo çalışanı bir mahallede yandaki kapıların bulunduğu evlere aynı gün içerisinde kargo bırakmıştır. Kapıların üzerinde bazı rakamlar ve harflerle gösterilmiş kapı numaraları yazmaktadır. Kargo çalışanının 1. kargoyu bıraktığı evin kapı numarasının onlar basamağının basamak değeri 70'tir. 2. kargoyu bıraktığı evin yüzler basamağının basamak değeri 600'dür. 3. kargoyu bıraktığı evin ise rakamlarının sayı değeri toplamı 24'tür. Buna göre bu kargo çalışanının 1. ve 2. kargoyu bıraktığı evin kapı numaraları toplamı, 3. kargoyu bıraktığı evin kapı numarasından kaç eksiktir?



- A. 2650
- B. 2448
- C. 1889
- D. 1765

12.

4076

1952

7088

Selin yukarıdaki sayılardan ikisini alıp toplamıştır. Selin'in aldığı sayılar yukarıdaki sayılardan en büyüğü ve en küçüğüdür. Buna göre Selin'in yaptığı işlemin sonucu kaçtır?

- A. 2124 B. 8500
C. 9040 D. 9750

13. Aşağıdaki ifadelerden hangisi yanlıştır?

- A. Alkol geçici bilinç kaybına sebep olabilir.
B. Sigarada bulunan zararlı tek madde nikotindir.
C. Alkol insan psikolojisinde tahribata yol açar.
D. Sigaranın en büyük tahribata yol açtığı organ, akciğerdir.

14.

Sigarayı bırak akciğerini korusun.
Sigara sağlığını bozacak birçok zararlı madde barındırır.
Sigara ağız sağlığını olumsuz etkiler.
Sigarayı bırakma hattı Alo 186'dır.

Mehmet sigaranın zararları ile ilgili yukarıdaki afişi hazırlamıştır. Buna göre Mehmet'in hazırladığı afişteki bilgilerden kaç tanesi hatalıdır?

- A. 1 B. 2
C. 3 D. 4

15.

Alkol kaybına sebep olur.
..... yavaşlamasına sebep olur.
Yaşanan trafik kazalarının önemli bir sebebi kullanarak trafiğe çıkan insanlardır.

Aşağıdakilerden hangisi yukarıdaki boşluklardan birine getirelemez?

- A. reflekslerin B. pasif
C. bilinç D. alkol

16.

I - Kişi ve ülke ekonomisine zarar verir.
II - Sosyal yaşamı olumsuz etkiler.
III - Birçok sağlık sorununa neden olur.
Zararlı alışkanlıklar yukarıdakilerden hangilerine neden olabilir?

- A. Yalnız I B. I ve II
C. II ve III D. I, II ve III

17.

Aşağıdakilerden hangisi alkolün en çok zarar verdiği organdır?

- A. akciğer B. karaciğer
C. bağırsak D. mide

18. Aşağıdaki ifadelerden hangisi yanlıştır?

- A. Sivas Kongresi alınan kararlar bakımından ulusal bir kongredir.
- B. Kurtuluş Savaşında batı cephesinde birçok zafer elde edilmiştir.
- C. Kurtuluş Savaşında Güney Cephesinde düzenli ordu birlikleri ile mücadele edilmiştir.
- D. Milli Mücadele Döneminde Türk milleti topyekün bir mücadele örneği sergilemiştir.

19.

ŞAHİN BEY

SÜTÇÜ İMAM

KAZIM KARABEKİR

İSMET İNÖNÜ

Yukarıdaki kutularda aşağıdaki sorulardan hangisinin cevabı yoktur?

- A. Batı Cephesi komutanlığını hangi komutan yapmıştır?
- B. Güney Cephesi komutanlığını hangi komutan yapmıştır?
- C. Maraşta düşmana ilk kurşunu atan kahraman kimdir?
- D. Antep'te kurtuluş mücadelesini başlatan kahraman kimdir?

20. Aşağıdakilerden hangisinde yer alan gelişmelerden tamamı milli mücadele dönemi ile alakalıdır?

- A. Çanakkale Savaşı - I. İnönü Savaşı - Sakarya Meydan Savaşı
- B. I. Dünya Savaşı - II. İnönü Savaşı - Büyük Taaruz
- C. I. İnönü Savaşı - II. İnönü Savaşı - Büyük Taaruz
- D. Çanakkale Savaşı - I. İnönü Savaşı - Kütahya Eskişehir Muharebeleri

ADI :

SOYADI :

SINIFI :

PUANI :

1	A	B	C	D
2	A	B	C	D
3	A	B	C	D
4	A	B	C	D
5	A	B	C	D
6	A	B	C	D
7	A	B	C	D
8	A	B	C	D
9	A	B	C	D
10	A	B	C	D
11	A	B	C	D
12	A	B	C	D
13	A	B	C	D
14	A	B	C	D
15	A	B	C	D
16	A	B	C	D
17	A	B	C	D
18	A	B	C	D
19	A	B	C	D
20	A	B	C	D