

Ada, dört bir yanı su ile çevrili kara parçasına verilen isimdir. Ülkemiz adalar bakımından çok zengin bir ülkedir. Ülkemizde büyüklüklerine göre farklılık gösteren birçok ada bulunur. Ülkemizde en çok ada Balıkesir ilimizde bulunmaktadır. Bu ilimizde 32 ada bulunmaktadır. Adaların çoğu yerleşime kapalı alanlardır. Çeşitli ağaçlar ve su kütlesinin bulunduğu bu alanları birçok insan ziyaret etmektedir. Bu yönüyle turizm açısından önemli bir yere sahiptir.

(1 ve 2 ve 3. soruyu yukarıdaki metne göre cevaplayalım.)

- Yukarıdaki metnin türü aşağıdakilerden hangisidir?
 - Bilgilendirici metin
 - Hikaye edici metin
 - Roman
 - Fabl
- Yukarıdaki metne göre aşağıdakilerden hangisi yanlıştır?
 - Ülkemiz adalar bakımından zengin bir ülkedir.
 - Adaların çoğunluğu yerleşime kapalıdır.
 - Adalar turizm açısından önemlidir.
 - Adaları ziyaret eden insan sayısı azdır.
- Metinde aşağıdaki sorulardan hangisinin cevabı yoktur?
 - Ülkemizde en çok ada hangi ilimizde bulunmaktadır?
 - Balıkesir ilinde kaç ada vardır?
 - Adalar yerleşime açık mıdır?
 - Adalarda yaşayan insanlar geçimlerini ne ile sağlar?

- | | |
|-------------|------------|
| ▶ traktör + | ▶ gazte - |
| ▶ şofben + | ▶ sıtad + |
| ▶ herkez - | ▶ yalnız + |

Cenan, yukarıdaki kelimeler doğru yazılmışsa karşlarına (+), yanlış yazılmışsa karşlarına (-) koymuştur. **Cenan kaç kelimedede hata yapmıştır?**

- 1
- 2
- 3
- 4

- "Sıcak" kelimesi aşağıdaki cümlelerden hangisinde farklı anlamda kullanılmıştır?
 - Sıcak bir yaz günü dedemin çiftliğine gitmek için yola çıktık.
 - Erdal'in eline sıcak su dökülünce çok ağladı.
 - Yeni gittiği okulda sınıf arkadaşları ona çok sıcak davranmış.
 - Bu sıcakta parkta oyun oynamaya gitmişler.

- | | |
|---------------------|--------------------|
| 1) ses - at - yüz | 2) gül - çay - düş |
| 3) diz - saç - dolu | 4) sal - koy - bin |

Yukarıdaki kutulardan hangisinde verilen kelimelerden tümü eş sesli değildir?

- 1
- 2
- 3
- 4

7. Aşağıdaki cümlelerin hangisi neden - sonuç bildirmemektedir?

- A. Çok hastayım çünkü soğukta çok kaldım.
 B. Ders çalışmadığım için sınavdan düşük not aldım.
 C. Emre ile arkadaşları bugün okula gelmedi.
 D. Çok sinirlendim bu yüzden kardeşime bağışladım.

8.

$$\begin{array}{r} 336 \\ \times 27 \\ \hline \end{array}$$

Yukarıdaki çarpma işleminin sonucu ile 5800 sayısının farkı kaçtır?

- A. 3272 B. 3400
 C. 3560 D. 3845

9.

$$\blacksquare \times (12 \times 25) = 25 \times \bullet \times 21$$

Yukarıdaki eşitlikte verilmeyen \blacksquare ve \bullet sembollerinin toplamı kaçtır?

- A. 23 B. 32
 C. 33 D. 45

10.

X	38	25
128	A	
229		B

Yukarıdaki işlem tablosunda A ve B harfleriyle gösterilen sayıların toplamı kaçtır?

- A. 9254 B. 10205
 C. 10589 D. 10950

11.

Bir çarpma işleminde ikinci çarpan 51'dir. Birinci çarpan ise ikinci çarpanın 72 fazladır. Bu çarpma işleminde çarpımın rakamları toplamı kaçtır?

- A. 15 B. 16
 C. 17 D. 18

12.

→ Yandaki eşitliklerde bazı sayılar harflerle gösterilmiştir. Bir çiftlikte A sayısı kadar tavuk, B sayısı kadar koyun, C sayısı kadar inek ve D sayısı kadar at vardır. Buna göre bu çiftlikte bulunan hayvanların ayak sayıları toplamı kaçtır?

1. Eşitlik

$$16 \times A \times 19 = B \times 8 \times 19$$

2. Eşitlik


$$12 \times C \times 23 = (D \times 15) \times 23$$

- A. 168 B. 188 C. 190 D. 220

13.

$$\begin{array}{r} 36 \\ \times 23 \\ \hline \end{array}$$

$$\begin{array}{r} 18 \\ \times \\ \hline \end{array}$$

Yukarıdaki sıralı çarpma işleminde  sembolüyle gösterilen sayı kaçtır?

- A. 13120 B. 13850
C. 14015 D. 14904

14. Aşağıdaki ifadelerden hangisi yanlıştır?

- A. Sigaranın içinde bulunan zararlı maddeler birçok hastalığa neden olur.
B. Sigara içmeyen fakat sigara içilen ortamda bulunan kişilere "pasif içici" denir.
C. Sigaranın içinde bulunan tek zararlı maddede nikotindir.
D. Sigara solunum sıkıntılarına neden olur.

sonerhoca.net




15.

- ➔➔ Alkol başta karaciğer olmak üzere birçok organa zarar verir.
- ➔➔ Trafik kazalarının önemli bir kısmı alkol kullanarak trafiğe çıkan sürücülerden kaynaklanır.
- ➔➔ Alkol, aile hayatına zarar verir.
- ➔➔ Alkol kullanan insanların bilincinde değişiklik olmaz.

Yukarıdaki bilgilerden kaç tanesi doğrudur?

- A. 1 B. 2
C. 3 D. 4

16.



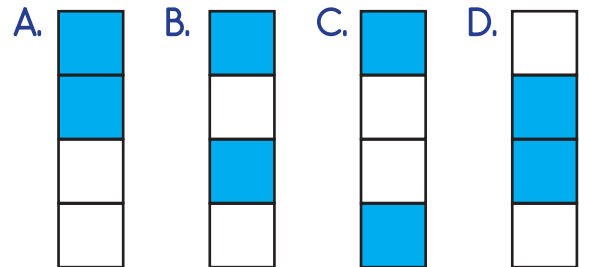
Yukarıdaki görsellerden kaç tanesinde "itme" kuvveti uygulanmaktadır?

- A. 3 B. 4
C. 5 D. 6

17.

	Hareketli cisimlere uygulanan kuvvet cismi yavaşlatabilir.
	Ağaçtan yere düşen bir portakal hızlanma hareketi yapar
	Kuvvet her cisimde şekil değiştirici etkiye sahiptir.
	Bir canlının bir yerden başka bir yere geçmesine "kuvvet" denir.

Yukarıda verilen bilgilerden doğru olanların kutuları boyanacaktır. Buna göre şeklin son görüntüsü aşağıdakilerden hangisi gibi olur?



18. Aşağıdaki ifadelerden hangisi yanlıştır?

- A. Milli Mücadele Dönemi, Atatürk'ün Sam-
sun'a çıkmasıyla başlar.
- B. Ali Saip, Milli Mücadele Dönemi'nde Ur-
fa'da büyük kahramanlıklar göstermiştir.
- C. Milli Mücadele Dönemi'nde, Batı Cephe-
si'nde Ermenistan ile mücadele edilmiştir.
- D. Milli Mücadele Dönemi'nde Doğu Cep-
hesi'nin komutanlığını Kazım Karabekir
yapmıştır.

19. Ormanda kaybolduğumda yönümü bulur-
ken en güvenli yöntemi kullandım.

Mehmet, ormanda kaybolduğunda yön bul-
mak için kullandığı yöntemi yukarıda söy-
lemiştir. Buna göre Mehmet'in kullandığı
yöntem aşağıdakilerden hangisidir?

A.



B.



C.



D.



20. Aşağıdaki bilgilerden hangisi yanlıştır?

- A. Pusulanın renkli ucu her zaman kuzeyi
gösterir.
- B. Kutup yıldızı bazen güneyi bazen de ku-
zeyi gösterir.
- C. Karınca yuvalarının toprak yığıntısı olan
kısmı kuzeyi gösterir.
- D. Günümüzde yön bulmak için navigasyon
sistemleri kullanılmaktadır.

ADI :

SOYADI :

SINIFI :

PUANI :

1	A	B	C	D
2	A	B	C	D
3	A	B	C	D
4	A	B	C	D
5	A	B	C	D
6	A	B	C	D
7	A	B	C	D
8	A	B	C	D
9	A	B	C	D
10	A	B	C	D
11	A	B	C	D
12	A	B	C	D
13	A	B	C	D
14	A	B	C	D
15	A	B	C	D
16	A	B	C	D
17	A	B	C	D
18	A	B	C	D
19	A	B	C	D
20	A	B	C	D